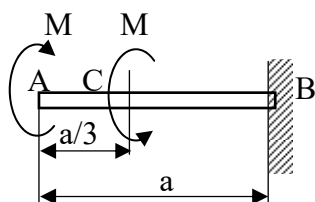
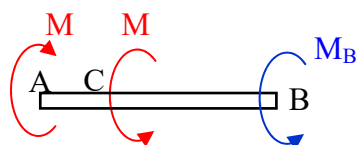


**Zadatak 1.** Štap AB, okruglog poprečnog presjeka polumjera  $r$ , čvrsto je uležišten u točki B i opterećen je momentima  $M$  u točkama A i C. Izračunajte promjer štapa da zakret točke A ne bi bio veći od  $\varphi_A$ ?. Koliki je tada zakret točke C? Zadano je:  $M=1500\text{Nm}$ ,  $a=0,6\text{m}$ ,  $G=80\text{GPa}$ ,  $\varphi_A=0,9^\circ$ .



Iz slike je vidljivo da momenti  $M$  djeluju u točkama A i C, a kao posljedica njihovog djelovanja u točki B pojavljuje se reaktivni moment  $M_B$  što je lako dokazati primjenom znanja stečenih u poglavlju „Oslobođanje tijela veza.“ Grafički predočeno to izgleda ovako:



U ovom tipu zadatka u pravilu ne moramo računati iznos reaktivnog momenta iako prethodnu činjenicu treba uvijek imati na umu.

Djelovanje momenata izaziva zakret svih točaka štapa u odnosu na čvrsti oslonac. Zakret nepomične točke, ovdje točke B, jednak je nuli!

Zakret točke A računa se prema izrazu:

$$\varphi_A = \frac{M \cdot a}{G \cdot I_p} - \frac{M \cdot 2 \cdot a}{3 \cdot G \cdot I_p} = \frac{M \cdot a}{3 \cdot G \cdot I_p}$$

Komentar: zakret  $\varphi_A$  točke A sastoji se od dva člana, prvi član govori o zakretu koji uzrokuje djelovanje momenta  $M$  u točki A, a drugi član govori o zakretu koji uzrokuje moment  $M$  koji djeluje u točki C. Obzirom da ova dva momenta imaju suprotnu orijentaciju to je u ovom izrazu predočeno suprotnim predznacima. Sami predznaci (pozitivno/negativno) nemaju nikakav fizikalni smisao kao što je to bilo kod aksijalno opterećenih štapova. Moment koji djeluje u točki A djeluje na cijeloj duljini štapa  $a$  i to računajući od čvrste točke B, dok moment koji djeluje u točki C djeluje samo na duljini od čvrste točke B do točke C ( $0,7 \cdot a$ ), ali sve točke koje se nalaze iza točke C pa sve do točke A imaju isti zakret jednak onome u točki C. Zakreti prouzročeni djelovanjem momenta na opisani način se zbrajaju, uvažavajući njihov predznak. To se naziva princip superpozicije.

Da bismo izračunali traženi promjer  $d$  štapa iz gornjeg izraza potrebno je izraziti polarni moment tromosti  $I_p$ :

$$I_p = \frac{d^4 \cdot \pi}{32}$$

i preračunati zakret točke A iz stupnjeva u radijane prema relaciji:

$$180^\circ = \pi \cdot \text{rad} \Rightarrow 1^\circ = \frac{\pi}{180} \cdot \text{rad}$$

Množenjem lijeve i desne strane s 0,9 dobiva se zakret točke A u radijanima

$$\hat{\varphi}_A = 0,0157 \text{rad}$$

Uvrštavanjem ove vrijednosti zajedno s izrazom za polarni moment tromosti u polazni izraz za zakret  $\varphi_A$  točke A može se izračunati vrijednost promjera štapa  $d$ :

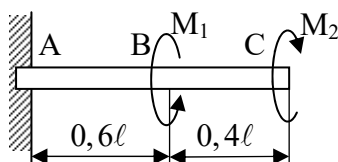
$$d = \sqrt[4]{\frac{9,6 \cdot M \cdot a}{G \cdot \pi \cdot \varphi_A}} = 38,47 \text{ mm}$$

Naposljetku, zakret točke C računa se prema izrazu:

$$\varphi_C = \frac{M \cdot 2 \cdot a}{3 \cdot G \cdot I_p} - \frac{M \cdot 2 \cdot a}{3 \cdot G \cdot I_p} = 0$$

Prvi član predstavlja djelovanje momenta  $M$  u točki A s time da se sada gleda njegov utjecaj u točki C, a to je udaljenost  $0,7 \cdot a$  od točke B, a drugi član predstavlja utjecaj momenta  $M$  koji djeluje u točki C koja se također nalazi na udaljenosti  $0,7 \cdot a$  od točke B.

**Zadatak 2.** Puni štap promjera  $d$ , uležišten u točki A, opterećen je momentima uvijanja u točkama B i C. Odredite omjer momenata  $M_1$  i  $M_2$  da zakret točke C bude  $\varphi_C = 0^\circ$ . Koliki je tada zakret  $\varphi_B$  točke B u stupnjevima i radijanima? Zadano je:  $M_1 = 0,15 \text{ kNm}$ ,  $d = 20 \text{ mm}$ ,  $\ell = 0,4 \text{ m}$ ,  $G = 80 \text{ GPa}$ .



Zakret točke C računa se prema izrazu:

$$\varphi_C = \frac{M_1 \cdot 0,6 \cdot \ell}{G \cdot I_p} - \frac{M_2 \cdot \ell}{G \cdot I_p} = 0$$

član  $\frac{\ell}{G \cdot I_p}$  može se pokratiti u oba pribrojnika pa se dobije traženi omjer momenata:

$$\frac{M_1}{M_2} = \frac{1}{0,6} = 1,67$$

Uz zadanu vrijednost momenta  $M_1$  možemo izračunati vrijednost momenta  $M_2 = 0,25 \text{ Nm}$ . Zakret točke B izračunat ćemo iz izraza:

$$\varphi_B = \frac{M_1 \cdot 0,6 \cdot \ell}{G \cdot I_p} - \frac{M_2 \cdot 0,6 \cdot \ell}{G \cdot I_p} = \frac{0,6 \cdot \ell}{G \cdot I_p} \cdot (M_1 - M_2)$$

$$\text{uz } I_p = \frac{d^4 \cdot \pi}{32} = 15708,0 \text{ mm}^4$$

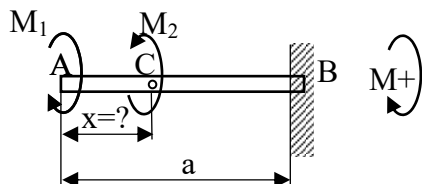
$$\hat{\varphi}_B = 0,01459 \text{ rad}$$

Ovu vrijednost pretvorit ćemo u stupnjeve korištenjem poznate relacije

$$180^\circ = \pi \cdot \text{rad} \Rightarrow \frac{180^\circ}{\pi} = 1 \text{ rad pa je}$$

$$\varphi_B = 0,657^\circ.$$

**Zadatak 3.** Štap AB, okruglog poprečnog presjeka promjera  $d$ , opterećen je momentima uvijanja  $M_1$  i  $M_2$  u točkama A i C. Odredite udaljenost  $x$  između točaka A i C da bi zakret točke A bio  $\varphi_A$ . Koliki je tada zakret točke C? Zadano je:  $M_1=25\text{Nm}$ ,  $M_2=21\text{Nm}$ ,  $\varphi_A=0,3^\circ(+)$ ,  $d=20\text{mm}$ ,  $G=80\text{GPa}$ ,  $a=500\text{mm}$ .



Komentar: zadani zakret  $\varphi_A$  točke A je pozitivan u smislu kako je zadan pozitivan predznak momenta uvijanja. Već je prije rečeno da kod uvijanja predznak nema nikakav fizikalni smisao kao što je to slučaj kod aksijalno opterećenih štapova (vlak/tlak), pa je ovaj pozitivni predznak posljedica toga što je pozitivan član u izrazu za zakret točke A veći od negativnog člana na što treba paziti prilikom postavljanja izraza.

Zakret točke A je:

$$\varphi_A = \frac{M_1 \cdot a}{G \cdot I_p} - \frac{M_2 \cdot (a - x)}{G \cdot I_p}$$

uz zadani zakret preračunat u radijane, kako je već pokazano,  $\widehat{\varphi}_A = 0,005236\text{rad}$  i polarni moment tromosti:

$$I_p = \frac{d^4 \cdot \pi}{32} = 15708,0\text{mm}^4$$

može se izračunati vrijednost  $x$  kako slijedi:

$$x = a \cdot \left( 1 - \frac{M_1}{M_2} \right) + \varphi_A \cdot \frac{G \cdot I_p}{M_2}$$

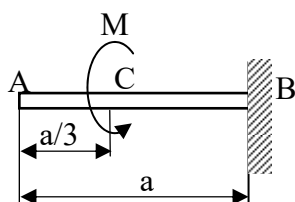
$$x = 218,1\text{mm}$$

Preostaje za izračunati zakret točke C za upravo izračunati  $x$ :

$$\varphi_C = \frac{M_1 \cdot (a - x)}{G \cdot I_p} - \frac{M_2 \cdot (a - x)}{G \cdot I_p} = \frac{(M_1 - M_2) \cdot (a - x)}{G \cdot I_p}$$

$$\widehat{\varphi}_C = 0,000897\text{rad} \quad (\varphi_C = 0,0514^\circ)$$

**Zadatak 4.** U štapu AB, okruglog poprečnog presjeka polumjera  $r$ , opterećenom zakretnim momentom  $M$  u točki C izmjereno je naprezanje  $\tau$ . Koliko je polumjer  $r$  štapa? Koliki je zakret točke A? Do kojeg iznosa se smije povećati zakretni moment da se u štapu ne bi prekoračilo dopušteno naprezanje uz ostale uvjete nepromijenjene? Zadano je:  $M=85\text{Nm}$ ,  $\tau=45\text{MPa}$ ,  $\tau_{\text{DOP}}=75\text{MPa}$ ,  $G=80\text{GPa}$ ,  $a=800\text{mm}$ .



Tangencijalno naprezanje u štapu računa se prema izrazu:

$$\tau = \frac{M}{w_p} = 45 \text{ MPa}$$

gdje je  $w_p$  polarni moment tromosti prema izrazu:

$$w_p = \frac{I_p}{r_{\max}} = \frac{\frac{d^4 \cdot \pi}{32}}{\frac{d}{2}} = \frac{d^3 \cdot \pi}{16} = \frac{(2 \cdot r)^3 \cdot \pi}{16} = \frac{r^3 \cdot \pi}{2}$$

$r_{\max}$  predstavlja maksimalnu udaljenost točke presjeka od središta zakrivljenosti presjeka i u toj točki će nastupiti maksimalni iznos naprezanja. Ovdje je  $r_{\max} = \frac{d}{2} = r$ .

Uvrštavanjem izraza za  $w_p$  u izraz za naprezanje  $\tau$  dobiva se izraz iz kojeg je moguće izračunati traženi promjer  $d$ :

$$\tau = \frac{2 \cdot M}{r^3 \cdot \pi} \Rightarrow r = \sqrt[3]{\frac{2 \cdot M}{\tau \cdot \pi}}$$

$$r = 10,6 \text{ mm}$$

Zakret točke A iznosi:

$$\varphi_A = \frac{M \cdot \frac{2}{3} \cdot a}{G \cdot I_p} = \varphi_C$$

$$\text{uz } I_p = \frac{r^4 \cdot \pi}{2} = 19830,9 \text{ mm}^4$$

$$\hat{\varphi}_A = 0,0286 \text{ rad} \quad (\varphi_A = 1,64^\circ)$$

Komentar: primijetimo da moment  $M$  uvija štap od točke C do uležištenja, dok je od točke A do točke C štap neopterećen odn. unutarnji moment jednak je nuli pa se zakret točke C prenosi u jednakom iznosu na sve točke neopterećenog dijela do točke, slično kao što je bilo s pomakom točke neopterećenog dijela štapa kod aksijalno opterećenih štapova.

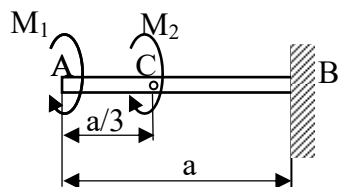
Iznos do kojeg se moment smije povećati da se ne prekorači uvjet dopuštenog naprezanja je:

$$\tau = \frac{M'}{w_p} \leq \tau_{DOP} \Rightarrow M' = w_p \cdot \tau_{DOP}$$

$$\text{uz } w_p = 1870,8 \text{ mm}^3$$

$$M' = 141,7 \text{ Nm}$$

**Zadatak 5.** Štap AB, okruglog poprečnog presjeka promjera  $d$ , opterećen je momentima uvijanja  $M_1$  i  $M_2$  u točkama A i C. Koliki su zakreti točaka A i C? Izračunajte novi promjer štapa da bi još bio zadovoljen uvjet dopuštenog naprezanja? Zadano je:  $M_1=25 \text{ Nm}$ ,  $M_2=14 \text{ Nm}$ ,  $d=20 \text{ mm}$ ,  $\tau_{DOP}=45 \text{ MPa}$ ,  $G=80 \text{ GPa}$ ,  $a=500 \text{ mm}$ .



Zakreti točaka A i C su:

$$\varphi_A = \frac{M_1 \cdot a}{G \cdot I_p} + \frac{M_2 \cdot \frac{2}{3} \cdot a}{G \cdot I_p} = \frac{a}{G \cdot I_p} \left( M_1 + \frac{2}{3} \cdot M_2 \right)$$

$$\varphi_C = \frac{M_1 \cdot \frac{2}{3} \cdot a}{G \cdot I_p} + \frac{M_2 \cdot \frac{2}{3} \cdot a}{G \cdot I_p} = \frac{2 \cdot a}{3 \cdot G \cdot I_p} (M_1 + M_2)$$

$$\text{uz } I_p = \frac{d^4 \cdot \pi}{32} = 15708,0 \text{ mm}^4$$

$$\hat{\varphi}_A = 0,013661 \text{ rad} \quad (\varphi_A = 0,783^\circ)$$

$$\hat{\varphi}_C = 0,0135 \text{ rad} \quad (\varphi_C = 0,593^\circ)$$

Naprezanje u štapu, uvažavajući uvjet dopuštenog naprezanja, jednako je:

$$\tau = \frac{M_1 + M_2}{w_p} \leq \tau_{DOP}$$

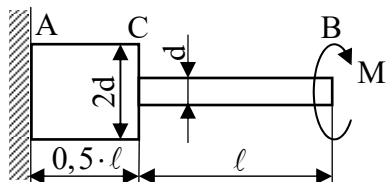
$$\text{uz } w_p = \frac{d^3 \cdot \pi}{16}$$

$$d' = \sqrt[3]{\frac{16 \cdot (M_1 + M_2)}{\tau_{DOP} \cdot \pi}}$$

$$d' = 16,4 \text{ mm}$$

Komentar: momenti  $M_1$  i  $M_2$  uvijaju štap u istom smjeru pa se njihovi iznosi zbrajaju (superponiraju). Maksimalno naprezanje pojavit će se na mjestu (potezu) gdje je iznos unutarnjeg momenta najveći a to je između točaka C i B i jednak je zbroju  $M_1 + M_2$ . Između točaka A i C unutarnji moment jednak je momentu  $M_1$  jer iza točke c više ne djeluje moment  $M_2$ .

**Zadatak 6.** Štap AB opterećen je momentom uvijanja  $M$  u točki B. Odredite iznos promjera  $d$  da zakret točke B ne bi bio veći od  $0,25^\circ$ . Koliki je zakret točke C i koliko je naprezanje u štapu? Zadano je:  $M=25\text{Nm}$ ,  $l=0,5\text{m}$ ,  $G=80\text{GPa}$ .



Komentar: rješenju zadatka se pristupa na jednak način kao i prije, s tom razlikom što se zbog različitih promjera štapa mijenja polarni moment tromosti odn. otpora.

Zakret točke B računa se prema:

$$\varphi_B = \frac{M \cdot 0,5 \cdot \ell}{G \cdot I_{P1}} + \frac{M \cdot \ell}{G \cdot I_{P2}}$$

Nadalje je:

$$I_{P1} = \frac{(2 \cdot d)^4 \cdot \pi}{32} = \frac{d^4 \cdot \pi}{2}$$

$$I_{P2} = \frac{d^4 \cdot \pi}{32}$$

što uvršteno u polazni izraz daje:

$$\varphi_B = \frac{2 \cdot M \cdot 0,5 \cdot \ell}{G \cdot d^4} + \frac{32 \cdot M \cdot \ell}{G \cdot d^4} = \frac{33 \cdot M \cdot \ell}{G \cdot d^4}$$

iz čega slijedi:

$$d = \sqrt[4]{\frac{33 \cdot M \cdot \ell}{G \cdot \pi \cdot \varphi_B}}$$

uz zadani zakret točke B izražen u radijanima  $\widehat{\varphi}_B = 0,004363rad$  promjer d je:

$$d = 24,77mm$$

Zakret točke C je:

$$\varphi_C = \frac{M \cdot 0,5 \cdot \ell}{G \cdot I_{P1}}$$

$$\text{uz } I_{P1} = \frac{d^4 \cdot \pi}{2} = 590906,5mm^4$$

$$\widehat{\varphi}_C = 0,0001322rad \quad \varphi_C = 0,00758^\circ$$

Naprezanje nije jednako u cijelom štapu jer se mijenja promjer štapa pa je:

$$\tau_1 = \frac{M}{w_{P1}} = \frac{2 \cdot M}{d^3 \cdot \pi}$$

$$\tau_2 = \frac{M}{w_{P2}} = \frac{16 \cdot M}{d^3 \cdot \pi}$$

jer je  $w_{P1} = \frac{I_{P1}}{d}$  ( $r_{\max 1} = d$ ) i  $w_{P2} = \frac{I_{P2}}{\frac{d}{2}}$  ( $r_{\max 2} = \frac{d}{2}$ ). Slijedi:

$$\tau_1 = 1,05MPa \text{ i } \tau_2 = 8,4MPa$$